

# PROBLEMAS


# PROBLEMAS

Suplemento de atividades  
Elaborado por Ana Maria Bueno

NOME: .....

ANO: .....

ESCOLA: .....



1. Complete.

Clara rima com Yara  
Berenice com Eunice  
Aninha com Rosinha  
E seu nome, rima com quê?

---

2. Invente versos para rimar com os que se seguem.

a) Fui andando por uma estrada


---

b) De repente, passou um homem correndo  
Levei um susto quando ouvi alguém dizendo:

---

c) A menina olhava para trás e ria  
Ao mesmo tempo que dizia

---




3. No poema problema “Que lindo colar!”, Olívia fez um colar com botões coloridos obedecendo a uma sequência de cores.

a) Complete a sequência correta das cores a seguir pintando os botões em branco.



- b) E que tal agora completar a sequência desenhando os elementos que faltam?  
Experimente!

Four empty rounded rectangular boxes for drawing, arranged horizontally.

4. Leia novamente o problema poema “Jogando dados”. Agora leia o poema problema a seguir e responda às questões.

Numa outra jogada,  
a Dani tirou 3 e 5  
A Paola tirou 6 e 1  
A Ivete tirou 5 e 4  
Se elas estão todas na partida,  
quem ficará atrás nessa corrida?

---



5. No poema “Comida de gato”, você reparou que as manchas de Cissano são feitas de faces de dados? Adicionando os valores das faces que aparecem, você encontrará um número maior ou menor que duas dezenas?

---

6. Releia o poema “O predinho” e depois responda à questão.

Hoje, um casal com 2 filhos gêmeos mudou-se para o 4º andar. Quantas pessoas moram agora no prédio de Seu Miguel?

---

7. Leia novamente o poema problema “Hum... que delícia!”. Se a conta da sorveteria deu R\$ 16,00:

a) Qual é o preço de cada sorvete? \_\_\_\_\_

b) A Marlene deu uma nota de 10 reais para pagar sua parte. Quanto ela recebeu de troco? \_\_\_\_\_

8. Releia o poema problema “Cada coisa em seu lugar”. Agora faça um desenho do vestido que pode ser guardado na 1ª ou na 2ª gaveta.

